

CALCUL MENTAL

Faire additionner trois nombres en appui sur le 10. Ex : $4 + 7 + 6$.
Écrire la somme.

- 1 Dans la cour de récréation, il y a 3 rondes de 7 enfants.
Écris le nombre d'enfants.



Je fais une addition.


Je fais une multiplication.
7 multiplié par 3.

$$7 + 7 + 7 = 21$$

$$7 \times 3 = 21$$

- 2 Complète les additions et les multiplications.


*



Il y a 3 cartons de 6 ananas.

$$6 + 6 + 6 = 18$$

$$3 \times 6 = 18$$




$$2 + 2 + 2 + 2 = 8$$

$$4 \times 2 = 8$$

- 3 Complète les deux opérations.

*



$$3 + 3 + 3 + 3 + 3 = 15$$

$$5 \times 3 = 15$$

4

- Complète.

*

Ce sont des centimes d'euros.



$$20 + 20 + 20 + 20 = 80$$

$$4 \times 20 = 80$$

- 5 À chaque addition correspond une multiplication. Colorie-les de la même couleur.

*

*

$$18 \times 4$$

$$18 + 18 + 18$$

$$32 + 32 + 32 + 32 + 32$$

$$8 + 8 + 8$$

$$32 \times 5$$

$$8 \times 3$$

$$32 \times 2$$

$$18 + 18 + 18 + 18$$

$$32 \times 4$$