


CALCUL MENTAL

Dire un nombre à 3 chiffres.
Écrire ce nombre.

.....
-------	-------	-------	-------	-------	-------	-------	-------


1 Écris sous la forme d'une addition puis d'une multiplication.

*



$$24 + 24 = 48$$

$$24 \times 2 = 48$$




$$10 + 10 + 10 + 10 + 10 = 50$$

$$10 \times 5 = 50$$

2 Écris le nombre de kiwis.

*




$$5 + 5 + 5 + 5 + 5 + 5 = 30$$

$$5 \times 6 = 30$$

3

Barre l'opération qui ne correspond pas au dessin.

*




$$15 + 15 + 15$$

~~$$15 + 3$$~~

$$15 \times 3$$

4 Écris le nombre de cahiers.

*



$$100 + 100 + 100 + 100 = 400$$

$$100 \times 4 = 400$$

5

Complète.

*

$$6 + 6 + 6 = 3 \times 6 = 18$$

$$14 + 14 = 2 \times 14 = 28$$

$$10 + 10 + 10 + 10 = 4 \times 10 = 40$$

$$100 + 100 + 100 = 3 \times 100 = 300$$

6

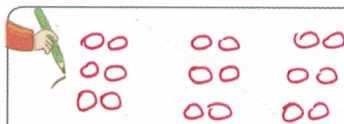
PROBLÈME Kevin a acheté

3 boîtes de 6 œufs.

Combien d'œufs a-t-il achetés ?

*

*



$$6 + 6 + 6 = 18$$

$$3 \times 6 = 18$$

Il a acheté 18 œufs.

7


PROBLÈME Hélène a acheté

4 sachets de 12 billes.

Combien de billes a-t-elle en tout ?

*

*



$$12 + 12 + 12 + 12 = 48$$

$$4 \times 12 = 48 \text{ ou } 12 \times 4$$

Elle a 48 billes.