

CALCUL MENTAL

Problème : compléter un nombre à la dizaine supérieure.
« Un jeu coûte 30 €. J'ai 25 €. Combien me manque-t-il ? »



- 1 Sur son bureau, la maîtresse a posé 3 boîtes de 6 crayons.
Quel est le nombre total de crayons ?




.....
.....
.....

- 2 Pour son anniversaire, Naïma a apporté 2 paquets de 12 chocolats chacun.
Combien de chocolats a-t-elle apportés ?



.....
.....
.....


- 3 Calcule le nombre de plants de chaque légume.



choux

$$\dots \times \dots = \dots$$

Il y a choux.



salades

$$\dots \times \dots = \dots$$

Il y a salades.



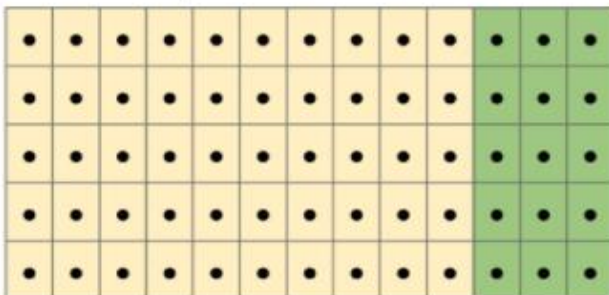
carottes

$$\dots \times \dots = \dots$$

Il y a carottes.



- 4 Fabienne a posé des carreaux dans sa cuisine. Combien de carreaux a-t-elle posés ?



carreaux jaunes : $10 \times 5 = \dots$

carreaux verts : $\dots \times \dots = \dots$

en tout :

Fabienne a posé carreaux.