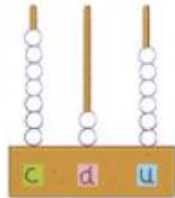
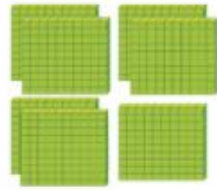


CALCUL MENTAL

Écrire un nombre ≤ 200 .
Écrire le nombre, le nombre qui précède et le nombre qui suit.

1 • Observe.

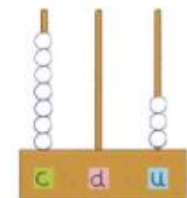
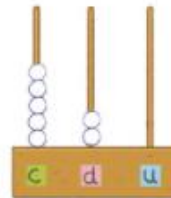
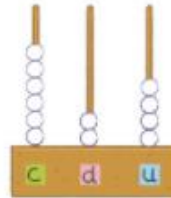


7 centaines
2 dizaines
6 unités

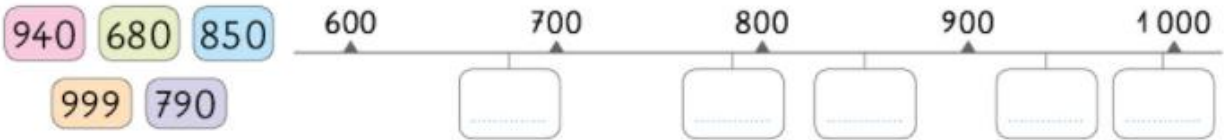


726

• Écris les nombres sous chaque abaque.



2 Place les nombres sur la ligne numérique.



3 Calcule.

- $20 + 300 + 7 = \dots$
- $6 + 400 + 80 = \dots$
- $800 + 40 + 8 = \dots$
- $50 + 100 = \dots$

4 Complète le tableau.

+	200	30	6
50			
500			

5 Écris le nombre qui convient.



6 centaines
et 3 dizaines

6 dizaines
et 3 centaines

3 centaines
et 6 unités

6 centaines
et 3 unités



6 Qui suis-je ?

• J'ai 12 dizaines.

Je suis le nombre .

• J'ai 23 dizaines et 8 unités.

Je suis le nombre .