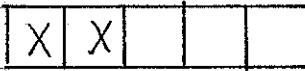
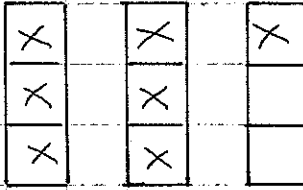


A



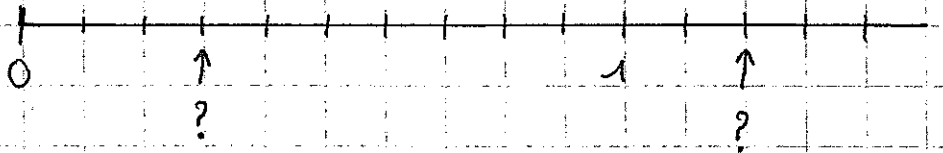
=

B

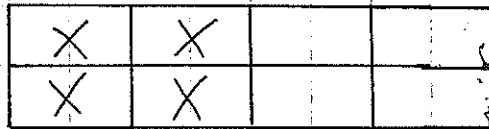


=

C



D



=

Les fractions

Je sais écrire en toutes lettres

$$\frac{5}{2} \quad \dots\dots\dots$$

$$\frac{3}{3} \quad \dots\dots\dots$$

$$\frac{1}{1} \quad \dots\dots\dots$$

$$\frac{2}{2} \quad \dots\dots\dots$$

(sur la petite feuille quadrillée) Représenter les fractions suivantes

$$\frac{7}{9}$$

B $\frac{9}{7}$

C $\frac{12}{3}$

(sur la petite feuille quadrillée) Donner la fraction équivalente au
numa

feuille quadrillée

Entourer en rouge les fractions égales à 1

$$\frac{5}{5}$$

$$\frac{6}{3}$$

$$\frac{1}{2}$$

$$\frac{11}{11}$$

Entourer en bleu les fractions supérieures à 1

$$\frac{8}{10}$$

$$\frac{5}{5}$$

$$\frac{100}{12}$$

$$\frac{14}{20}$$