

1°) Reproduis le tableau suivant dans ton cahier de brouillon, attention tu en auras besoin plusieurs séances

1/ écrire dans le tableau :

millions			mille			unités		
C	D	U	C	D	U	C	D	U

écris dans le tableau le nombre suivant : soixante-quatorze millions quatre-vingt-quinze mille trente-six

- a) Quel est **le nombre** de dizaines de mille ?
- b) encadre le nombre que tu as écrit dans le tableau à la **centaine près**

..... < ..... < .....

2°) Rappel , le triple c'est « 3x »

Triple de 15 :

Triple de 25 :

Triple de 30 :

Triple de 60 :

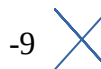
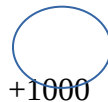
Triple de 100 : .

Triple de 50 : . .

Triple de 300 : .

Triple de 1500 :

3° Complète



990

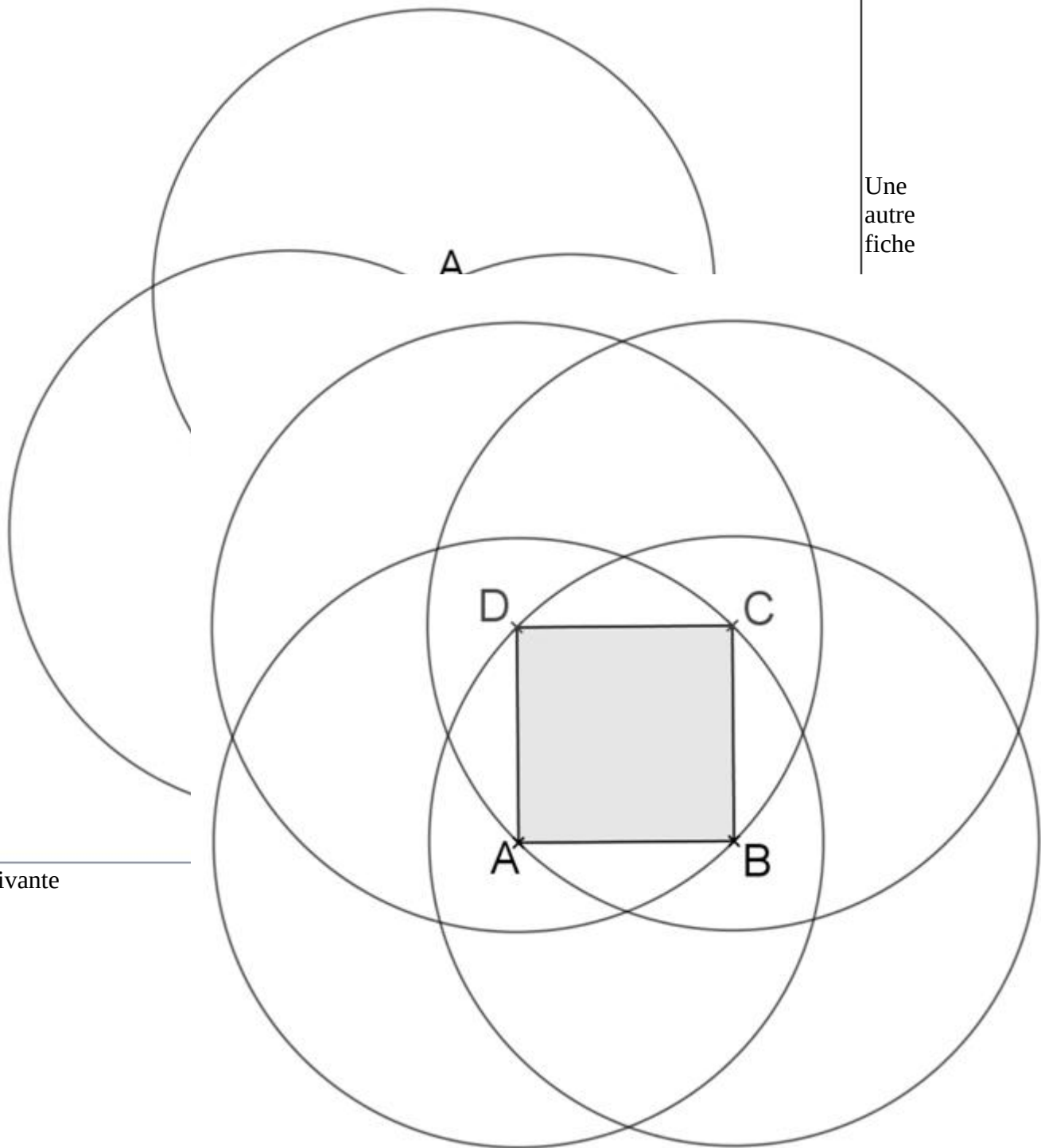
.....

.....

.....

.....

4°) Relis la leçon 6 sur le cercle.  
Puis reproduis les fiches suivantes



Une  
autre  
fiche

page suivante