



HORODATOR ★★

1

2

3

4

5

6

7

8

9

10

11

12

13

14

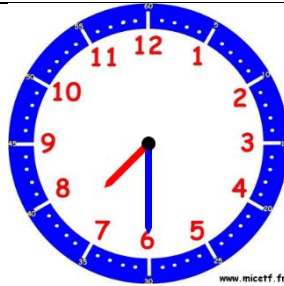
15

Comment faire ?

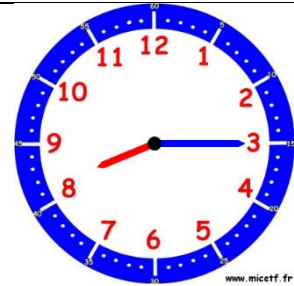
L'horloge donne l'heure grâce à deux aiguilles. La grande aiguille indique les minutes, la petite aiguille indique les heures.



Il est **4 heures** car la petite aiguille vise le « 4 » et la grande indique le « 12 » qui représente « 0 » minute.



Il est **7h30** car la petite aiguille est après le 7 et avant le 8 et la grande aiguille est sur le 6 qui représente 6 fois 5 minutes, c'est-à-dire 30 minutes (une demi-heure)



Il est **8h15** (8 heures et quart) car la grande aiguille indique le « 3 » qui représente 3 fois 5 minutes, c'est-à-dire 15 minutes.



HORODATOR ★★

1



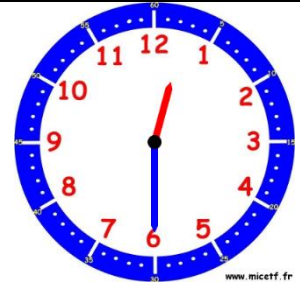
www.micetf.fr

Il est....h....min



www.micetf.fr

Il est....h....min



www.micetf.fr

Il est....h....min



HORODATOR ★★

2



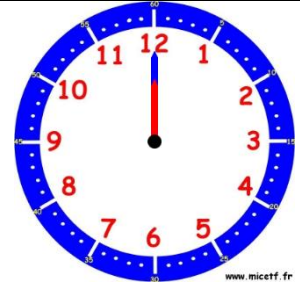
www.micetf.fr

Il est....h....min



www.micetf.fr

Il est....h....min



www.micetf.fr

Il est....h....min



HORODATOR ★★

3



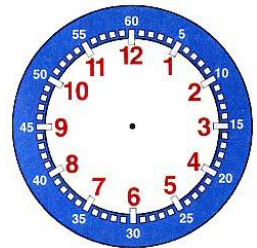
www.micetf.fr

Il est....h



www.micetf.fr

Il est....h



Il est 1 h 15



HORODATOR ★★

4



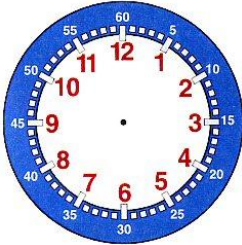
Quelle heure sera-t-il si on ajoute 1 heure ?

Il sera :.....h.....min

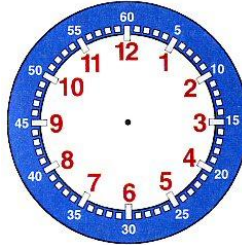


HORODATOR ★★

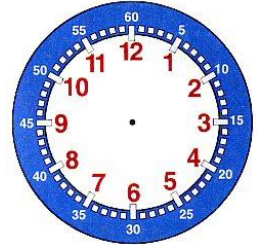
5



Il est 8 h 45



Il est 4 h 30



Il est 2 h 15



HORODATOR ★★

6



Il est.....h....min



Il est.....h....min



Il est.....h....min



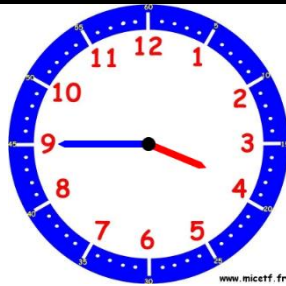
HORODATOR ★★★

7



www.micetf.fr

Il est....h....min



www.micetf.fr

Il est....h....min



www.micetf.fr

Il est....h....min



HORODATOR ★★★

8



www.micetf.fr

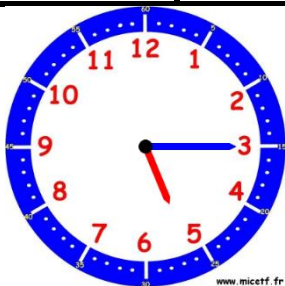
Quelle heure sera-t-il si on ajoute 1/2 heure ?

Il sera :....h.....min



HORODATOR ★★★

9



www.micetf.fr

Il est....h....min



www.micetf.fr

Il est....h....min



www.micetf.fr

Il est....h....min



HORODATOR ★★

10



www.micetf.fr

Il est.....h....min



www.micetf.fr

Il est.....h....min



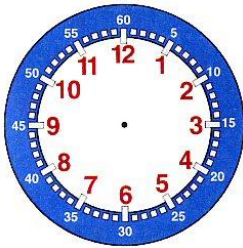
www.micetf.fr

Il est.....h....min

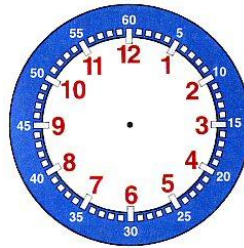


HORODATOR ★★

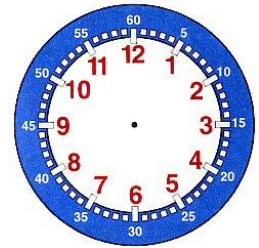
11



4 h 40



3 h 20



5 h 50



HORODATOR ★★

12



www.micetf.fr

Quelle heure sera-t-il si on ajoute 1h 15 ?

Il sera :.....h.....min



HORODATOR ★★★

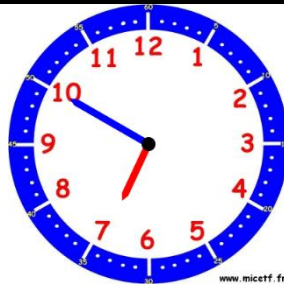
13



....h....min

Ou

.....



....h....min

Ou

.....



....h....min

Ou

.....



HORODATOR ★★★

14



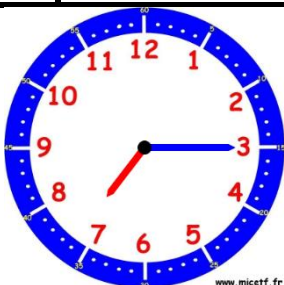
Quelle heure sera-t-il si on ajoute 1h15 ?

Il sera :.....h.....min



HORODATOR ★★★

15



Quelle heure sera-t-il si on ajoute 1h45 ?

Il sera :.....h.....min